

Parate kennis



Naam: _____

Klas: _____ Datum: _____

Snelrekenen:

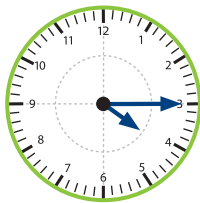

(voorgestelde werktijd: 1 minuut)


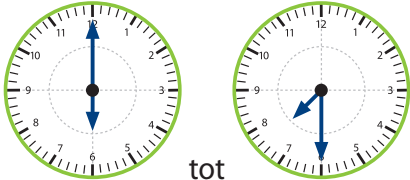

$9 + 4 =$ _____	$0 \times 3 =$ _____
$15 - 8 =$ _____	$33 : 3 =$ _____
$7 + 6 =$ _____	$6 \times 4 =$ _____
$16 - 8 =$ _____	$32 : 4 =$ _____
$4 + 8 =$ _____	$6 \times 3 =$ _____

____ /10

Inzichtelijk rekenen:

(voorgestelde werktijd: 9 minuten)

nr.	OPDRACHT	ANTWOORD
1	<input checked="" type="checkbox"/> A 530 B 630 C 650 D 890 E Het goede antwoord staat er niet bij.	<input type="radio"/> A <input type="radio"/> B <input type="radio"/> C <input type="radio"/> D <input type="radio"/> E
2	... Schrijf negenhonderddertig in cijfers.	_____
3	... Hoe laat is het op deze klok? 	_____
4	In welke rij staan de getallen van klein naar groot ? A 600 • 260 • 200 B 780 • 700 • 870 C 410 • 450 • 510 D 320 • 230 • 720 E Geen enkele rij is juist geordend.	<input type="radio"/> A <input type="radio"/> B <input type="radio"/> C <input type="radio"/> D <input type="radio"/> E
5	Welk getal hoort op de puntjes te staan? _____ ... 910 930 950 	_____
6	... $970 - 80 =$...	_____

nr.	OPDRACHT	ANTWOORD
7 ...	 <p>Hoeveel geld is dit samen?</p>	_____ cent
8 <input checked="" type="checkbox"/>	<p>Wat hoort op de plaats van het vraagteken te staan? $120 + (20 ? 4) = 200$</p> <p>A + B - C × D :</p> <p>E Het juiste antwoord staat er niet bij.</p>	<input type="radio"/> A <input type="radio"/> B <input type="radio"/> C <input type="radio"/> D <input type="radio"/> E
9 <input checked="" type="checkbox"/>	<p>Welke oefening is fout opgelost?</p> <p>A $900 - 200 = 700$ B $820 + 80 = 900$ C $5 \times 110 = 550$ D $120 : 2 = 600$</p> <p>E Deze oefeningen zijn allemaal juist opgelost.</p>	<input type="radio"/> A <input type="radio"/> B <input type="radio"/> C <input type="radio"/> D <input type="radio"/> E
10 ...	<p>Vroeg in de ochtend melkt boer Felix de koeien. Hoelang duurt dat?</p>  <p>van tot</p>	<hr/> <hr/>
11 ...	$9 \times 80 = \dots$	<hr/>
12 ...	<p>Een wielrenner traint tegen ongeveer 40 km per uur. Hoeveel km legt hij ongeveer af in 5 uur?</p> 	<hr/> <hr/>
13 ...	$3 \text{ dm} + 2 \text{ cm} = \dots \text{ cm}$	<hr/>
14 ...	$200 : 4 = \dots$	<hr/>
15 <input checked="" type="checkbox"/>	<p>Welke oefening is fout opgelost?</p> <p>A $800 - 250 = 50$ B $300 + 480 = 880$ C $6 \times 80 = 480$ D $600 : 4 = 150$</p> <p>E Alle oefeningen zijn juist opgelost.</p>	<input type="radio"/> A <input type="radio"/> B <input type="radio"/> C <input type="radio"/> D <input type="radio"/> E

___ /15

Algemeen totaal
 ___ /25