



# Parate kennis



Naam: \_\_\_\_\_

Klas: \_\_\_\_\_ Datum: \_\_\_\_\_

## Snelrekenen:

(voorgestelde werktijd: 1 minuut)


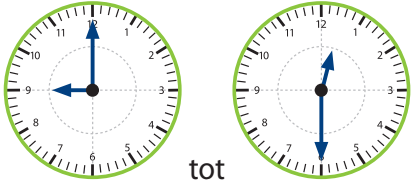

$9 + 2 =$ _____	$11 - 3 =$ _____
$7 + 5 =$ _____	$13 - 9 =$ _____
$8 + 7 =$ _____	$12 - 8 =$ _____
$5 + 9 =$ _____	$14 - 6 =$ _____
$6 + 5 =$ _____	$16 - 7 =$ _____

\_\_\_\_\_/10

## Inzichtelijk rekenen:

(voorgestelde werktijd: 9 minuten)

nr.	OPDRACHT	ANTWOORD
1	<input checked="" type="checkbox"/> <b>A</b> 208 <b>B</b> 292 <b>C</b> 308 <b>D</b> 358 <b>E</b> Het goede antwoord staat er niet bij.	<input type="radio"/> A <input type="radio"/> B <input type="radio"/> C <input type="radio"/> D <input type="radio"/> E
2	... Schrijf <b>driehonderddrieënveertig</b> in cijfers.	_____
3	... Hoe laat is het op deze klok?	_____
4	In welke rij staan de getallen <b>van groot naar klein</b> ? <b>A</b> 192 • 129 • 199 <b>B</b> 156 • 116 • 165 <b>C</b> 123 • 156 • 189 <b>D</b> 200 • 189 • 175 <b>E</b> Geen enkele rij is goed geordend.	<input type="radio"/> A <input type="radio"/> B <input type="radio"/> C <input type="radio"/> D <input type="radio"/> E
5	Welk getal hoort op de puntjes te staan? 184      187      190      ...	_____
6	... $290 - 70 =$ ...	_____

nr.	OPDRACHT	ANTWOORD
7	<p>Ik wissel een briefje van 5 euro om in munten van 50 cent. Hoeveel muntstukken van 50 cent krijg ik?</p> 	<hr/> <hr/>
8	<p>Wat hoort op de plaats van de puntjes te staan?  <math>250 - \dots = 210</math>  <b>A</b> 460      <b>B</b> 4      <b>C</b> 60      <b>D</b> 40  <b>E</b> Het juiste antwoord staat er niet bij.</p>	<input type="radio"/> A <input type="radio"/> B <input type="radio"/> C <input type="radio"/> D <input type="radio"/> E
9	<p>Welke oefening is <b>fout</b> opgelost?  <b>A</b> <math>200 - 180 = 20</math>      <b>B</b> <math>110 + 90 = 400</math>  <b>C</b> <math>6 \times 40 = 240</math>      <b>D</b> <math>80 : 4 = 20</math>  <b>E</b> Al deze oefeningen zijn juist opgelost.</p>	<input type="radio"/> A <input type="radio"/> B <input type="radio"/> C <input type="radio"/> D <input type="radio"/> E
10	<p>Bakker Anouar staat in de voormiddag op de markt. Hoelang is hij daar?</p>  <p>van                      tot</p>	<hr/> <hr/>
11	<p><math>5 \times 12 = \dots</math></p>	<hr/>
12	<p>Een bakje lasagne van 400 g kost 3 euro. Hoeveel betaal je voor vier bakjes lasagne?</p> 	<p>_____ euro</p>
13	<p><math>4 \text{ l} + 5 \text{ dl} = \dots \text{ dl}</math></p>	<hr/>
14	<p><math>309 : 3 = \dots</math></p>	<hr/>
15	<p>Welke oefening is <b>fout</b> opgelost?  <b>A</b> <math>200 - 150 = 50</math>      <b>B</b> <math>190 + 110 = 400</math>  <b>C</b> <math>4 \times 100 = 400</math>      <b>D</b> <math>150 : 3 = 50</math>  <b>E</b> Alle oefeningen zijn juist opgelost.</p>	<input type="radio"/> A <input type="radio"/> B <input type="radio"/> C <input type="radio"/> D <input type="radio"/> E

\_\_\_\_/15

Algemeen totaal  
 \_\_\_\_/25