



Naam: _____


Datum: _____

Klas: _____

Klasnummer: _____

1 Vul de tabel in. Let op: het is na de middag.

analoge klok	digitale klok	hoe laat is het?



2 Vul in.

een kwartier = _____ minuten

1 dag = _____ uur

een uur = _____ minuten

1 minuut = _____ seconden

een half uur = _____ minuten

3 Los op.

$344 \times 2 =$ _____

$54 \times 10 =$ _____

$112 \times 5 =$ _____

$780 : 10 =$ _____

$27 \times 100 =$ _____

$231 \times 3 =$ _____


$4\ 600 : 100 =$ _____


$424 \times 2 =$ _____

4 Los de oefeningen op.

$28 \times 3 =$ _____


$17 \times 2 =$ _____


$92 : 4 =$ _____


$78 : 3 =$ _____




Ik vond de taak



Ik maakte de taak alleen.



Ik kreeg hulp.



Opmerking ouders: _____